

MATEMÁTICA

INFORMAÇÃO:

NOME: _____ DATA: ____/____/____

ESCOLA: _____ RUBRICA DO DOCENTE: _____

1 - Decompe os números de diferentes maneiras.

30 + _____	40 + _____
50	
45 + _____	20 + _____ + _____

_____ + 5	40 + _____
55	
30 + _____	_____ + _____ + _____

2 - Escreve o número anterior e o número seguinte.

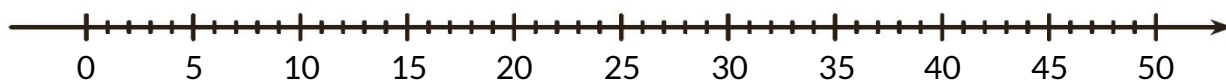
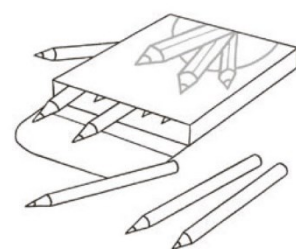
_____ < 37 < _____ _____ < 41 < _____ _____ < 50 < _____

3 - Liga corretamente.

54	•	3D 2U	•	•	cinquenta e quatro
32	•	5D 4U	•	•	trinta e dois

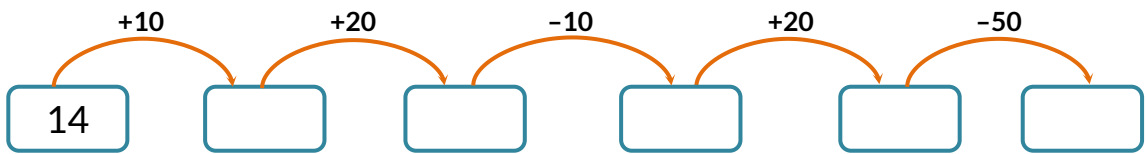
4 - Calcula utilizando a reta numérica.

$$28 + 20 = \underline{\hspace{2cm}}$$

5 - A Beatriz tem mais 15 lápis de cor que a Leonor, que tem 28 lápis.
Quantos lápis de cor tem a Beatriz?

R.: A Beatriz tem _____ lápis de cor.

6 - Completa.



7 - Assinala, com X, as afirmações que são verdadeiras.

$10 + 6 = 18$

$27 + 30 = 57$

$15 + 30 = 10 + 35$

$15 + 20 > 17 + 15$


$12 + 30 < 10 + 40$

$9 + 35 = 14 + 30$

8 - A Matilde tem 24 livros na sua estante. O seu irmão tem 26 livros.
Ao todo quantos livros têm os dois irmãos?

R.: Os dois irmãos têm ao todo _____ livros.

9 - Observa as figuras.



• Indica a área de cada figura.

A: _____

B: _____

C: _____

D: _____

• Indica duas figuras equivalentes. _____ e _____

• Desenha no quadriculado um retângulo com área igual a 8 .