

Nome : \_\_\_\_\_



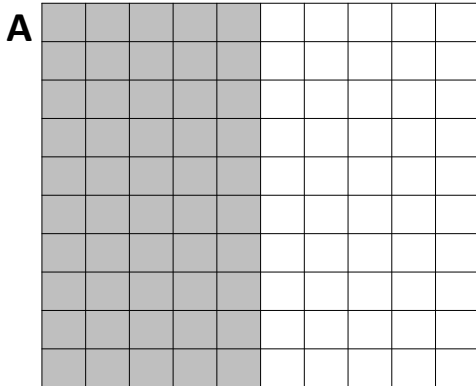
INFORMAÇÃO :

Data : \_\_\_/\_\_\_/\_\_\_

1 – Completa, de acordo com o exemplo.

	Pertence à ordem das				
	unidades	,	décimas	centésimas	
1,35	1	,	3	5	$1 + 0,35 = 1,35$
2,40					
4,06					
0,8					
3,16					

2 – Observa as figuras A, B e C.



2.1 – Representa a parte pintada das figuras A, B e C através de uma fração e de números decimais.

**A**  ◀ fração  
nº decimal ▶

**B**  ◀ fração  
nº decimal ▶

**C**  ◀ fração  
nº decimal ▶