

Nome : \_\_\_\_\_

INFORMAÇÃO :

Data : \_\_\_/\_\_\_/\_\_\_

1 – Observa as figuras e calcula as suas áreas com as unidades de área indicadas.

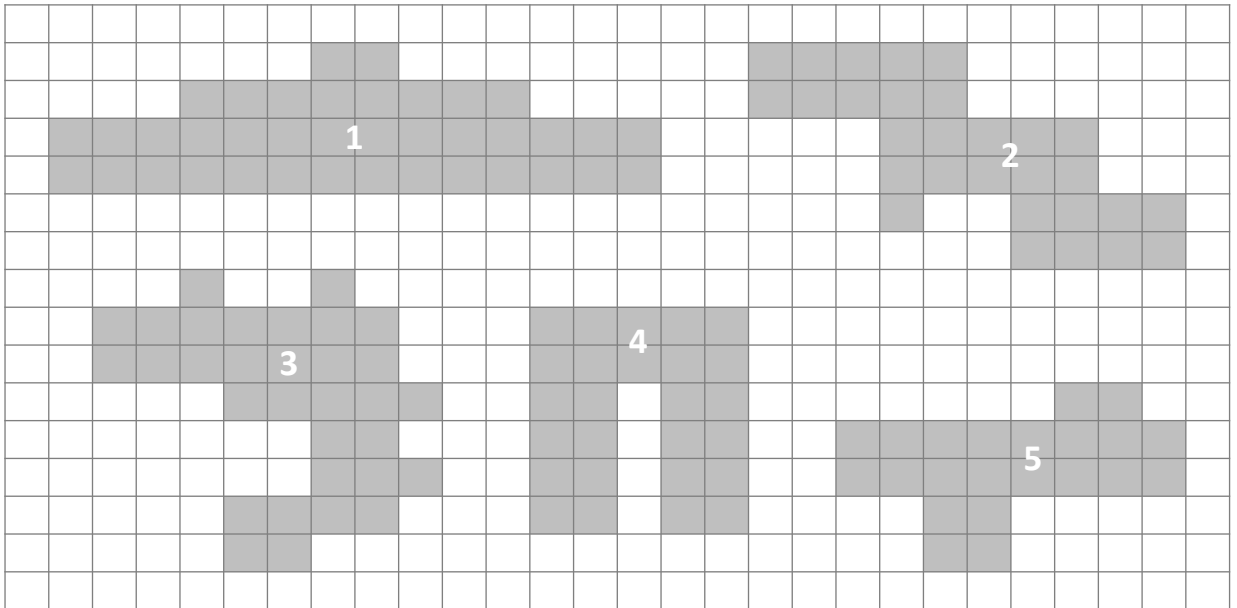







Figura	1	2	3	4	5
Área em 					
Área em 					
Área em 					

a) Observa como os registos das áreas de cada figura se alteram conforme a unidade de medida de área. Encontre alguma relação? Qual? \_\_\_\_\_

b) Ordena as figuras por ordem crescente de áreas.

c) Calcula o perímetro das cinco figuras tomando como unidade de comprimento o lado da quadrícula e regista.

Figura	1	2	3	4	5
Perímetro (em  )					
Perímetro (em  )					