

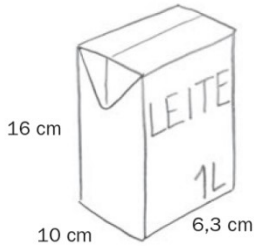
Nome: _____

INFORMAÇÃO: _____

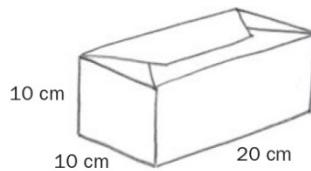
Data: __/__/__

VOLUME


1 - Observa as caixas.



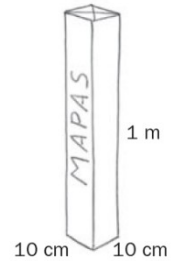
Caixa A



Caixa B



Caixa C



Caixa D

a) Calcula o volume de cada caixa.

Volume da caixa A = _____ Volume da caixa C = _____

Volume da caixa B = _____ Volume da caixa D = _____

2 - Completa com a unidade de volume mais adequada.

- Para medir o volume de água de um poço, utilizo _____.

- Para medir o volume de combustível que entra no motor de uma moto, utilizo _____.

3 - Regista as correspondências pedidas.

a) $0,9 \text{ m}^3 = \text{_____} \text{ dm}^3 = \text{_____} \text{ cm}^3$

b) $0,45 \text{ m}^3 = \text{_____} \text{ dm}^3 = \text{_____} \text{ cm}^3$

c) $0,264 \text{ dm}^3 = \text{_____} \text{ cm}^3$

d) $396 \text{ dm}^3 = \text{_____} \text{ m}^3$

