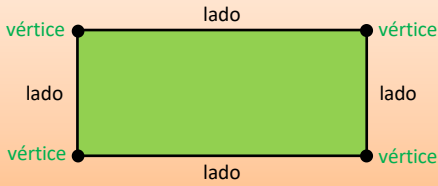


Nome : \_\_\_\_\_

INFORMAÇÃO : \_\_\_\_\_





Data : \_\_/\_\_/\_\_



Os segmentos de reta que limitam uma figura chamam-se **lados**.

Um ponto comum a dois lados chama-se **vértice**.

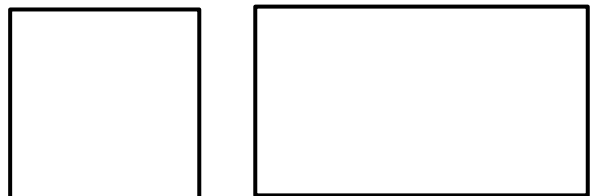
1 – Completa a tabela.

	Número de lados	Número de vértices
		
		
		
		


2 – Observa a imagem.



2.1. Selecciona os lados verticais das figuras geométricas.



2.2. Selecciona os lados horizontais das figuras geométricas.



Lembra-te: Um **quadrado** é um retângulo com os lados todos iguais.