

Nome : \_\_\_\_\_

INFORMAÇÃO : \_\_\_\_\_

Data : \_\_\_/\_\_\_/\_\_\_

1 – O Alberto costuma ler, todos os dias de uma semana, um pouco de um livro de aventuras. Observa o quadro e responde.

Dia da semana	Tempo de leitura em cada dia
sábado	15 minutos
domingo	5 minutos
segunda-feira	10 minutos
terça-feira	30 minutos
quarta-feira	40 minutos
quinta-feira	35 minutos
sexta-feira	20 minutos



1.1 – Qual é a diferença de tempo gasto a ler entre o dia em que leu mais e o dia em que leu menos?

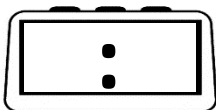
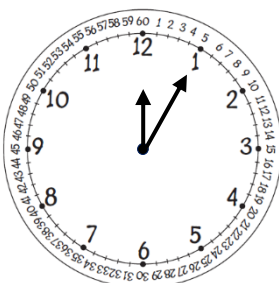
R.: \_\_\_\_\_

1.2 – Quanto tempo dedicou o Alberto à leitura nos três primeiros dias (sábado, domingo e segunda-feira)?

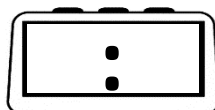
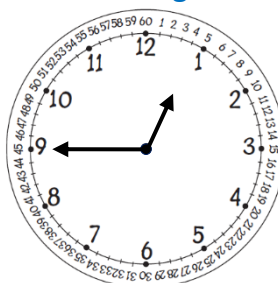
R.: \_\_\_\_\_

1.3 – Os relógios seguintes marcam a hora em que o Alberto começou a sua leitura em três dias. Escreve a hora em que a leitura do Alberto terminou em cada um dos dias assinalados.

sábado



domingo



segunda-feira

