

Nome : _____

INFORMAÇÃO : _____

Data : __/__/__

1 – Estima primeiro e mede depois, com a régua, o perímetro das figuras.

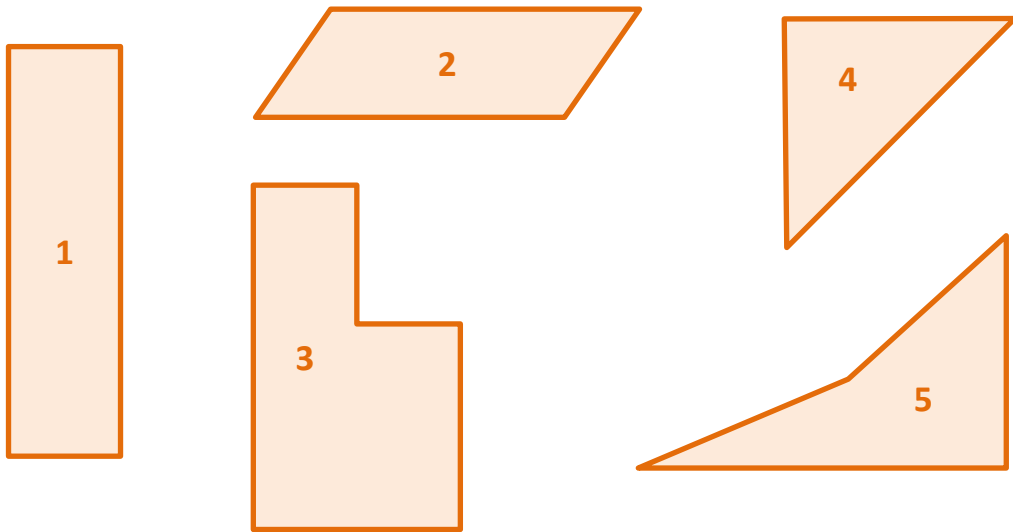




Figura	1	2	3	4	5
Estimativa do perímetro (cm)					
Perímetro (cm)					

2 – Observa os círculos 6 e 7.

a) Qual é o perímetro destes círculos?



Estimativa do perímetro do círculo 6 → _____ cm

Estimativa do perímetro do círculo 7 → _____ cm

b) Com um fio de lã, cobre a fronteira de cada círculo, estica-o mede o comprimento do fio e regista.

Comprimento do perímetro do círculo 6 → _____ cm

Comprimento do perímetro do círculo 7 → _____ cm