




Nome : _____

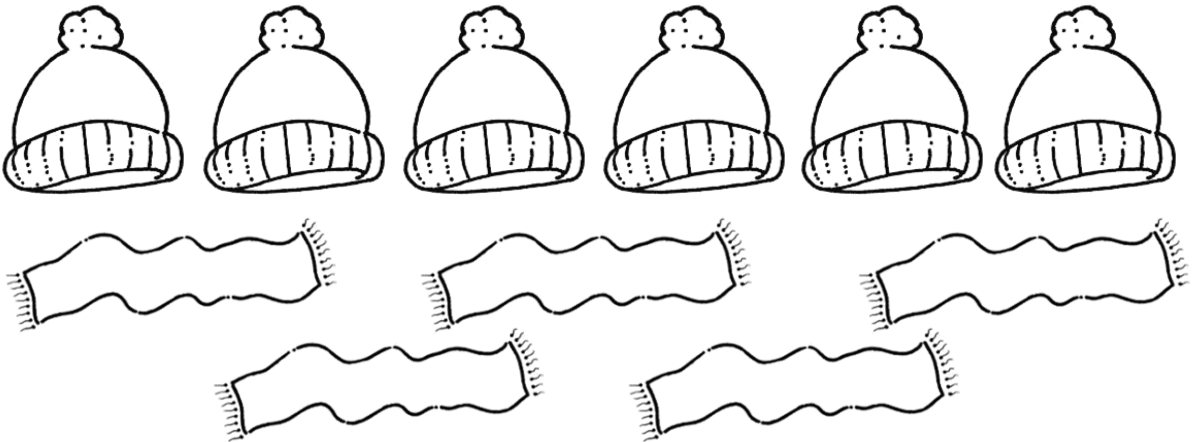
INFORMAÇÃO : _____

Data : ___/___/___

1 – Escreve o sinal maior ($>$) ou menor ($<$) segundo corresponda.



2 – Ordena de menor a maior os números que estão dentro de um gorro e de maior a menor os que estão dentro de um cachecol.



3 – Escreve o número maior e o menor que se podem formar com estes dígitos:

7, 1, 9

4, 0, 2

Número maior:

Número maior:

Número menor:

Número menor: