





Nome : _____

INFORMAÇÃO : _____

Data : __/__/__

RESOLUÇÃO DE PROBLEMAS

O Valter, como trabalho de casa, desenhou e pintou várias figuras geométricas. O diagrama seguinte mostra o trabalho que fez.

					Total
Amarelo	1	5	2	6	
Vermelho	3	3	4	2	
Azul	8	1	3	1	
Total					

Completa o diagrama e indica:

Quantos círculos desenhou?

R.: _____

Quantas figuras pintou de vermelho?

R.: _____

Quantas figuras com 4 lados desenhou?

R.: _____

Quantas figuras desenhou e pintou no total?

R.: _____