

MATEMÁTICA

INFORMAÇÃO:

NOME: _____ DATA: ____/____/____

ESCOLA: _____ RUBRICA DO DOCENTE: _____

1 - Forma conjuntos com 1 dezena de elementos.



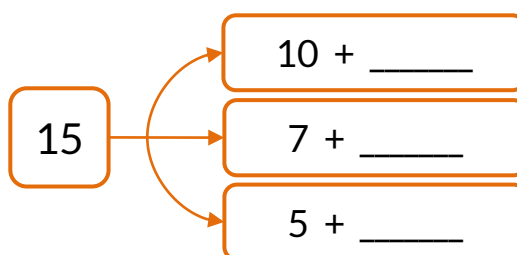
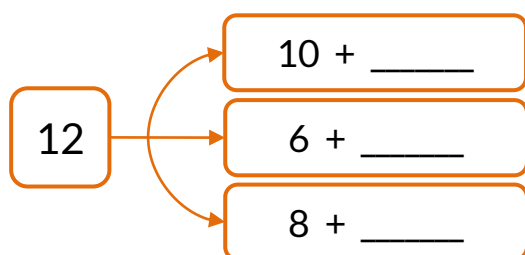
- Quantos conjuntos formaste?
- Quantos elementos sobraram?
- Quantos elementos faltam para poderes formar mais uma dezena?
Explica como pensaste.

R.: Faltam _____ elementos.

2 - Completa.

11	$10 + \underline{\quad}$	1 dezena e $\underline{\quad}$ unidade.
13	$\underline{\quad} + \underline{\quad}$	$\underline{\quad}$ dezena e $\underline{\quad}$ unidades.
14	$\underline{\quad} + \underline{\quad}$	$\underline{\quad}$ dezena e $\underline{\quad}$ unidades.
16	$\underline{\quad} + \underline{\quad}$	$\underline{\quad}$ dezena e $\underline{\quad}$ unidades.

3 - Completa.




4 – A Noélia tinha 7 pintassilgos e 3 canários. Nasceram mais 6 novas crias de pintassilgos. Com quantas aves ficou a Noélia?

R.: Ficou com _____ aves.

- Se a Noélia oferecer 4 crias de pintassilgos aos seus amigos, com quantas ainda ficará?

R.: Ficou com _____ aves.

5 – Assinala as figuras de sólidos que só têm superfícies planas.



6 – Faz corresponder cada sólido ao seu nome, usando cores diferentes.



●
●
●
●

paralelepípedo cilindro esfera cubo

7 – **Completa** com $>$, $<$ ou $=$.

$12 + 3$ — $16 - 1$

$9 + 3$ — $15 - 4$