

Nome : _____







INFORMAÇÃO : _____

Data : ___/___/___

1 – Observa os amigos a jogar.



1.1. – Representa, nas filas, a pontuação que cada amigo obteve.

																				Total
	10	1	1	5																
Hugo																				
	5	5	2	5	1															
Romeu																				
	10	5	1																	
Aida																				
	5	5	2	5	2															
Francisco																				
	10	2	2	2	2															
Andreia																				
	10	10																		
Rita																				

1.2. – Quem obteve maior pontuação? _____

1.3. – Quem obteve menor pontuação? _____

1.4. – Quem obteve igual pontuação? _____

1.5. – De quantos pontos precisa o Hugo para empatar com a Rita? _____