

Nome : _____

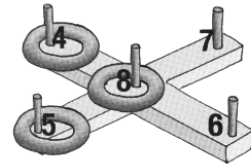
INFORMAÇÃO : _____

Data : ___/___/___

1 – Calcula o total de pontos que a Irina, a Aida e o Bernardo conseguiram no jogo do arco.



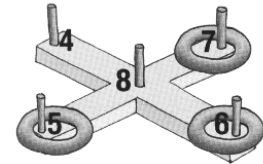
Irina



$$\bigcirc + \bigcirc + \bigcirc = \bigcirc$$



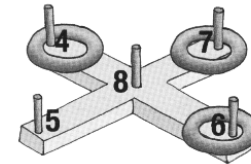
Aida



$$\bigcirc + \bigcirc + \bigcirc = \bigcirc$$



Bernardo



$$\bigcirc + \bigcirc + \bigcirc = \bigcirc$$

1.1. – Completa.

A _____ foi quem fez mais pontos.

A _____ e o _____ totalizaram o mesmo número de pontos.

2 – Em cada conjunto, pinta a **vermelho** o número maior e a **azul** o número menor.

