





























Nome : _____

INFORMAÇÃO : _____

Data : __/__/__

1 – No recreio da escola os amigos jogam.

Para saberes quem ganhou soma os pontos de cada percurso.

							Ana	Total	<input type="text"/>
							Rui		<input type="text"/>
							Inácio		<input type="text"/>
							Inês		<input type="text"/>

1.1. – Quem totalizou mais pontos? _____

1.2. – Quem obteve menor pontuação? _____

2 – Nesta peça de teatro entram 14 alunos da turma do 1º ano.

Na peça entram alunos.No palco só estão alunos.

$$\square - \square = \square$$

Faltam entrar alunos.