

## MATEMÁTICA

INFORMAÇÃO:

NOME: \_\_\_\_\_ DATA: \_\_\_\_/\_\_\_\_/\_\_\_\_

ESCOLA: \_\_\_\_\_ RUBRICA DO DOCENTE: \_\_\_\_\_

1 - Pinta os retângulos que têm números pares.

40

125

548

237

19

104

2 - Completa a tabela.

C	D	U	Decomposição	Leitura do número
			300 + 70 + 4	
4	2	9		
				duzentos e quarenta e três

3 - Descubra as regularidades e completa as sequências.

400	405	410							445		
-----	-----	-----	--	--	--	--	--	--	-----	--	--

399	395	391		383							
-----	-----	-----	--	-----	--	--	--	--	--	--	--

4 - Escreve o número anterior e o seguinte.

	199			250			168	
	300			441			301	

5 - Completa com &gt;, &lt; e =.

190 + 50  240382  3C + 2D + 8U100 + 99  200

6 – O André está a ler um livro com 168 páginas e já vai na 134. Quantas páginas faltam para acabar de ler o livro?



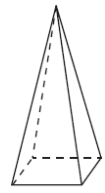
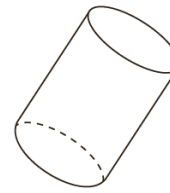
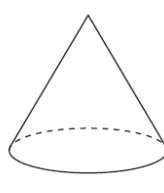
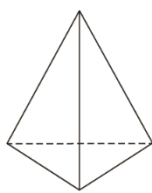
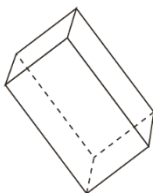
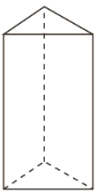
R.: \_\_\_\_\_

7 – A biblioteca recebeu 85 alunos da parte da manhã e 68 da parte da tarde. Quantos alunos estiveram na biblioteca?



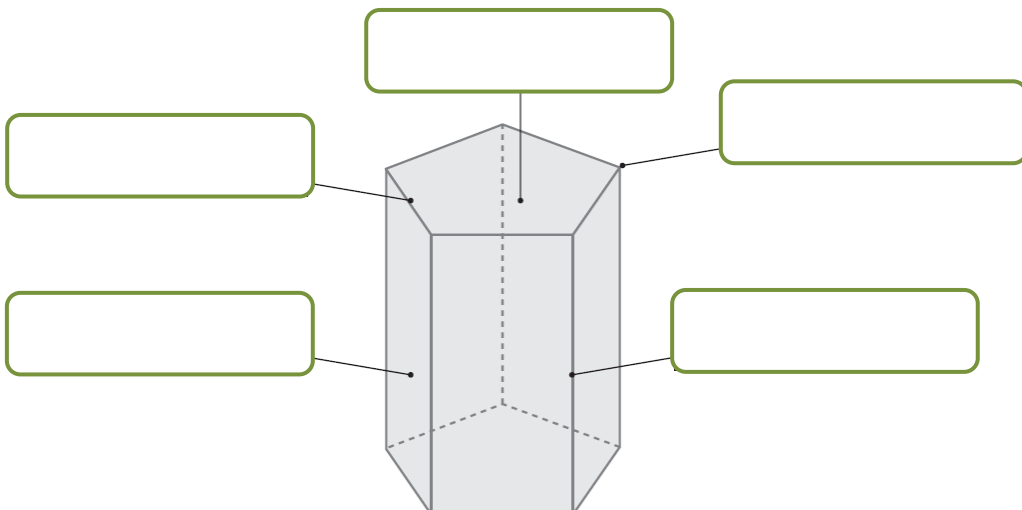
R.: \_\_\_\_\_

8 – Observa os sólidos geométricos.



- Assinala os sólidos que são poliedros.
- Pinta, de verde, os prismas e, de laranja, as pirâmides.

9 – Preenche corretamente cada etiqueta com um dos nomes: **face**, **aresta** ou **vértice**.



10 - A Marina fez um inquérito na escola para saber quem comia fruta ao lanche. Observa a tabela onde a Marina registou os dados recolhidos.

	Rapazes	Raparigas
Come fruta	14	16
Não come fruta	4	6

- Quantas crianças comem fruta ao lanche?

R.: \_\_\_\_\_




- Quantos alunos responderam ao inquérito?

R.: \_\_\_\_\_

- Responderam ao inquérito mais rapazes ou mais raparigas? Quantos a mais?

R.: \_\_\_\_\_

11 - Escreve as horas que os relógios marcam.



12 - Completa de modo a obteres afirmações verdadeiras.

Um dia tem \_\_\_\_\_ horas. Uma hora tem \_\_\_\_\_ minutos.

Meia hora são \_\_\_\_\_ minutos. Um quarto de hora tem \_\_\_\_\_ minutos.

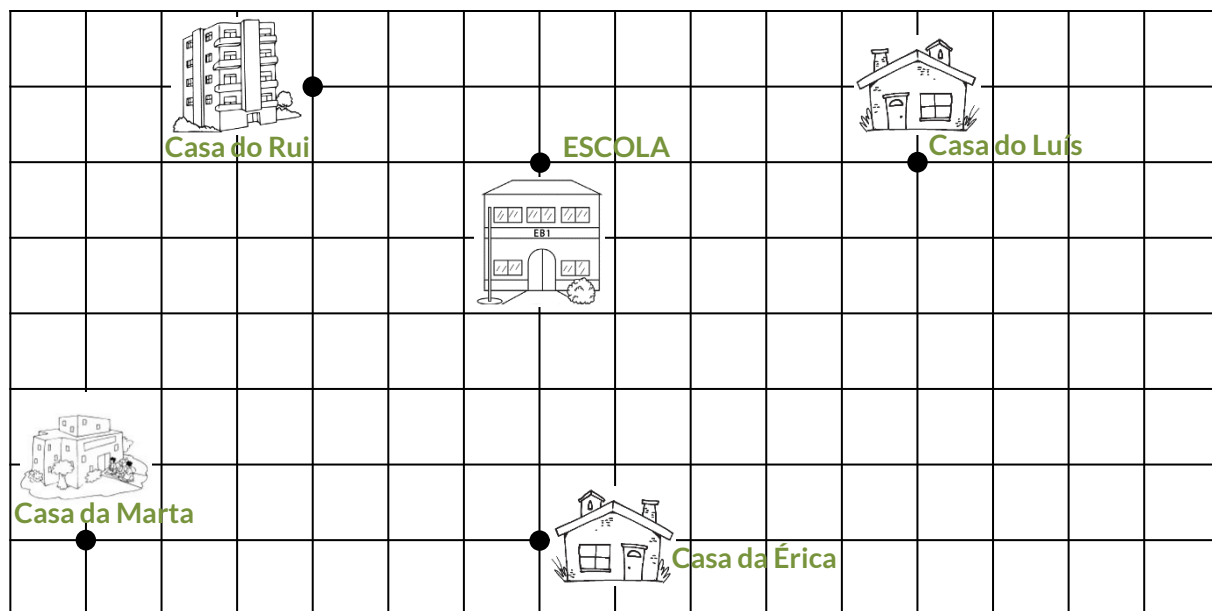
13 - Assinala o dia imediatamente anterior à segunda-feira.

sexta-feira

domingo

terça-feira

14 - No quadriculado, estão as casas de alguns meninos e a escola.



• Qual é a criança que vive mais longe da escola? \_\_\_\_\_

E mais perto? \_\_\_\_\_

• Quais são as duas crianças que vivem equidistantes da escola?

R.: \_\_\_\_\_

• Marca no quadriculado um ponto **M** que esteja à mesma distância da casa da Érica e do Luís.