

Nome : _____

INFORMAÇÃO :

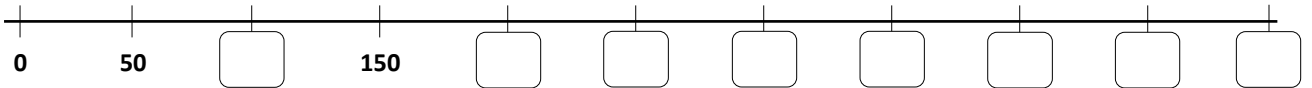
Data : ___/___/___

1 – Observa o quadro. Descobre a sequência de números e completa-os.

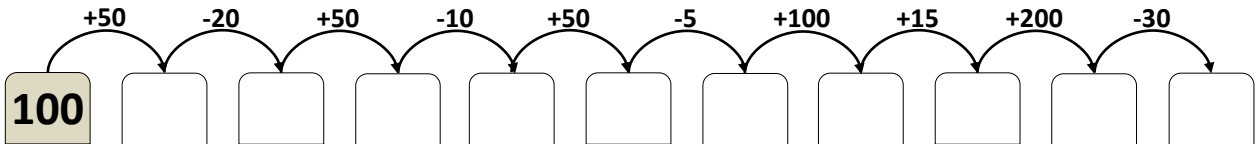
	A	B	C	D	E	F	G	H	I	J	K	L	M	N	O
1	200	205	210												270
2	275					300									345
3			360						390		400				
4					445								485		
5	500														570

1.1 – Escreve por extenso o número que se encontra em 5K.

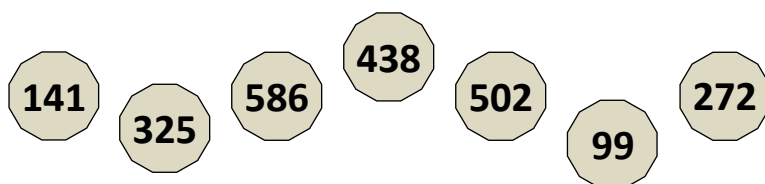
2 – Completa a reta graduada com os números que faltam.



3 – Completa a sequência.



4 – Ajuda o Gonçalo e escreve por ordem crescente.



< < < < < <