

Nome : \_\_\_\_\_





INFORMAÇÃO : \_\_\_\_\_

Data : \_\_/\_\_/\_\_

## Tabelas de Frequência

1 – Cada aluno da tua turma deve escolher o fruto preferido entre: **uvas, banana, pera e cerejas.**

Regista a escolha de cada aluno na tabela, utilizando um traço (|) para cada resposta, e descobre o número de alunos que prefere cada um dos frutos apresentados.

Fruta	Contagem	Número de alunos
 <b>uvas</b>		
 <b>banana</b>		
 <b>pera</b>		
 <b>cerejas</b>		
	<b>Total</b>	

Depois de preenchida a tabela, responde.

a) Algum fruto foi mais escolhido do que qualquer dos outros?

---

b) Algum fruto foi menos escolhido do que qualquer dos outros?

---

c) Quantos meninos preferiram «pera» ou «uvas»?

---

d) Quantos alunos não preferiram «cerejas»? Explica como pensaste.

---