





Nome : _____


INFORMAÇÃO : _____

Data : __/__/__

RESOLUÇÃO DE PROBLEMAS

Observa o pictograma que representa a votação de todos os alunos da escola para o local onde poderão ir passear na festa de final de ano.

Jardim Zoológico	
Parque Biológico	
Praia	
Cinema	

 = 4 alunos

Qual foi a opção menos votada?

R.: _____

Qual foi a opção mais votada?

R.: _____

Houve alguma opção com o mesmo número de votos? Se sim, qual?

R.: _____

Quantos alunos tem a escola?

R.: _____