

Nome: _____

INFORMAÇÃO: _____

Data: __/__/__

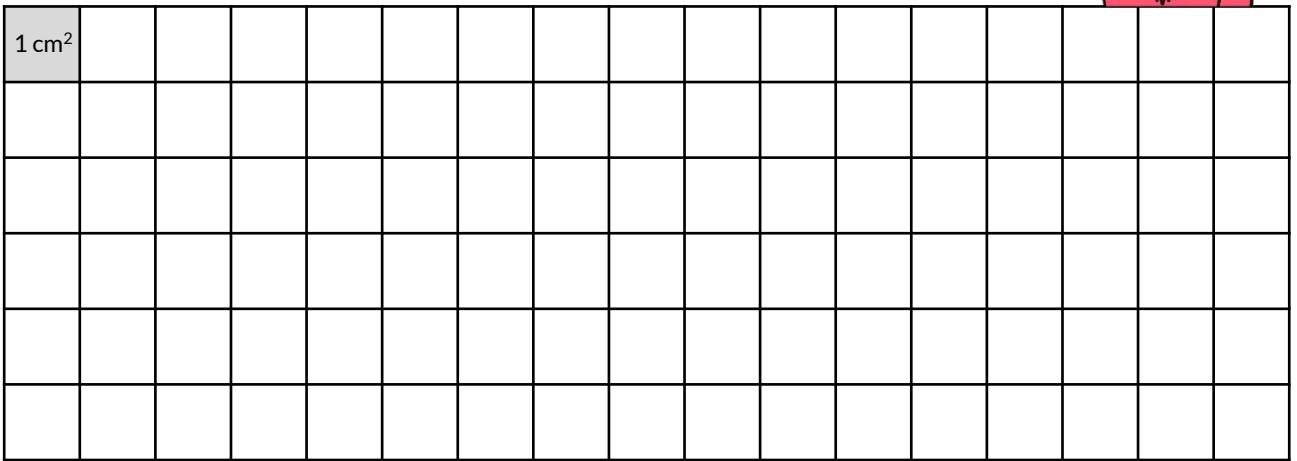
ÁREA

1 - Desenha no quadriculado 3 figuras:


Fig. A - um quadrado com 16 cm^2 de área;

Fig. B - um retângulo não quadrado com 16 cm^2 de área;


Fig. C - um polígono não retângulo com 16 cm^2 de área.




2 - Com a ajuda de uma régua ou de um esquadro, mede os lados dos retângulos representados e calcula as respectivas áreas



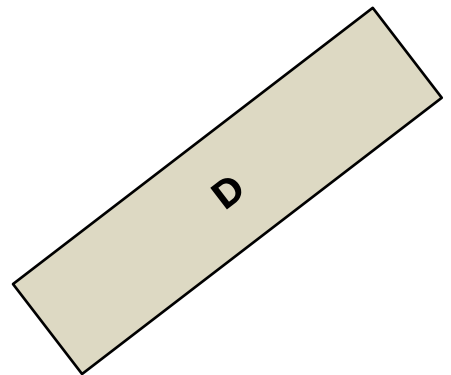
A



B



C



D

Fig. A: _____

Fig. C: _____

Fig. B: _____

Fig. D: _____