

## MATEMÁTICA

INFORMAÇÃO:

NOME: \_\_\_\_\_ DATA: \_\_\_\_/\_\_\_\_/\_\_\_\_

ESCOLA: \_\_\_\_\_ RUBRICA DO DOCENTE: \_\_\_\_\_

## 1 - Observa o pictograma.

**Bonecos do Harry Potter vendidos na Fnac**

= 1 boneco

- Em que dia da semana se venderam mais bonecos? \_\_\_\_\_
- Escolhe dois dias em que, no conjunto, se tenha vendido uma dezena de bonecos.  
\_\_\_\_\_ e \_\_\_\_\_
- Quantos bonecos foram vendidos nos cinco dias?

R.: Foram vendidos \_\_\_\_\_ bonecos.

- Quantos bonecos foram vendidos a mais na 5.ª feira em relação a 6.ª feira?
- Quantos dias tem uma semana?
- Em que dias da semana não vais à escola? \_\_\_\_\_

2 - Para cada número, **circunda** de azul o algarismo das unidades e de laranja o algarismo das dezenas.

**2 6**

**8**

**3 5**

**1 4**

**3 0**

3 - **Observa** o exemplo e **completa**.

2D e 4U  $\rightarrow$   +  =

dezassete

3D e 9U  $\rightarrow$   +  =

quarenta

1D e 7U  $\rightarrow$   +  =

vinte e quatro

4D e 0U  $\rightarrow$   +  =

trinta e nove

4 - **Escreve** os números que estão antes e depois do número indicado.

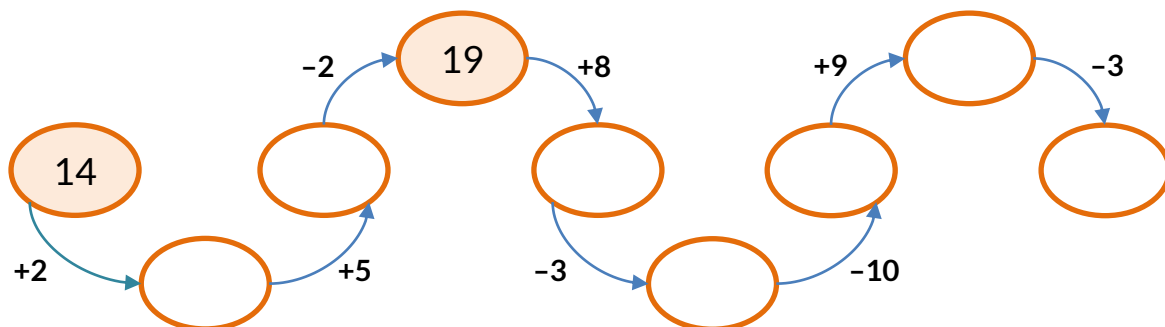
<  <

<  <

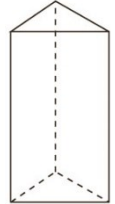
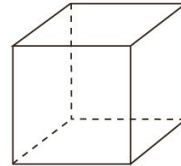

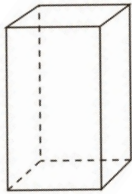
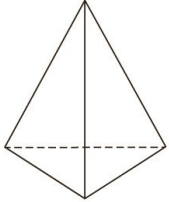




<  <

<  <


5 - **Calcula e completa**.



6 - Liga cada figura geométrica aos sólidos onde a podemos encontrar.



7 - Associa cada sólido à etiqueta que lhe corresponde.



Só tenho superfícies curvas




Tenho superfícies curvas e superfícies planas




Só tenho superfícies planas

8 - Representa em cada geoplano uma figura geométrica de acordo com a informação dada.

**Figura com 3 lados**



**Figura com 4 lados**




9 – Numa das prateleiras de uma loja de brinquedos havia 20 brinquedos: 8 bonecas, 4 carros e os restantes eram jogos.  
**Quantos jogos havia na prateleira?**




R.: Na prateleira havia \_\_\_\_\_ jogos.

10 – O Luís quer comprar um livro que custa 28 euros mas só tem 15 euros.  
**Quanto dinheiro lhe falta?**



R.: Faltam-lhe \_\_\_\_\_ euros.

11 – A Dona Delmira tem uma capoeira com 4 galinhas, 2 coelhos e 3 patos.  
**Quantas patas de animais existem no total na capoeira da Dona Delmira?**



R.: Existem no total \_\_\_\_\_ patas de animais.