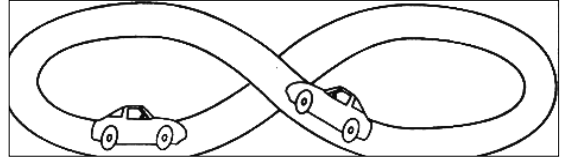
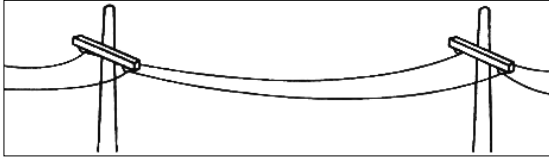


Nome : \_\_\_\_\_

INFORMAÇÃO : \_\_\_\_\_

Data : \_\_\_/\_\_\_/\_\_\_

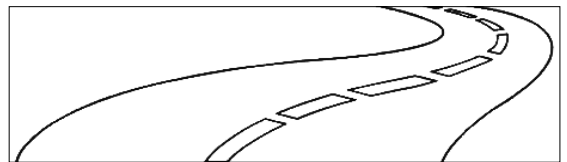
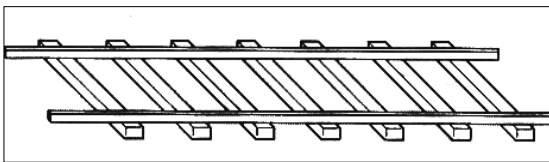
1 – Escreve debaixo de cada gravura: linha fechada; linha aberta.



\_\_\_\_\_

\_\_\_\_\_

2 – Escreve debaixo de cada gravura: linha reta; linha curva.



\_\_\_\_\_

\_\_\_\_\_

3 – Escreve V (verdadeiro) ou F (falso).

$400 > 300$

$498 < 499$

$409 = 499$

$440 = 404$

$435 < 453$

$410 > 401$

4 – Descobre os resultados.

$3 \times 0 = \underline{\quad}$	$4 \times 1 = \underline{\quad}$	$3 \times 10 = \underline{\quad}$	$15 \times 10 = \underline{\quad}$
$24 \times 0 = \underline{\quad}$	$12 \times 1 = \underline{\quad}$	$5 \times 10 = \underline{\quad}$	$49 \times 10 = \underline{\quad}$

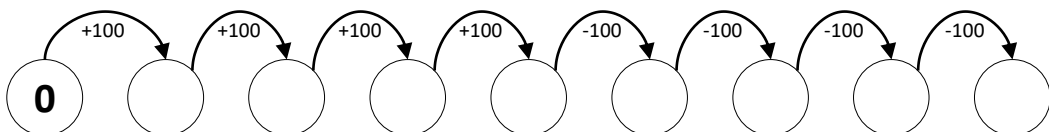
5 – Liga com um traço os valores correspondentes.

$2 \times 2 \bullet \bullet 40$   
 $4 \times 10 \bullet \bullet 4$

$2 \times 9 \bullet \bullet 18$   
 $2 \times 6 \bullet \bullet 12$

$3 \times 8 \bullet \bullet 12$   
 $3 \times 4 \bullet \bullet 24$

6 – Completa as sequências.



## 7 – Decompõe:

$135 = \underline{\quad} + \underline{\quad} + \underline{\quad}$

$490 = \underline{\quad} + \underline{\quad} + \underline{\quad}$

$264 = \underline{\quad} + \underline{\quad} + \underline{\quad}$

$303 = \underline{\quad} + \underline{\quad} + \underline{\quad}$

$394 = \underline{\quad} + \underline{\quad} + \underline{\quad}$

$418 = \underline{\quad} + \underline{\quad} + \underline{\quad}$

## 8 – Escreve a leitura dos números:

109	
215	
358	
487	

## 9 – Resolve as situações problemáticas.

**9.1** A professora do Rui comprou 256 cadernos. Já se gastaram 132.  
**Quantos cadernos ainda há?**

R.: \_\_\_\_\_

**9.2** A professora do Rui também comprou 178 lápis e já se gastaram 53.  
**Quantos lápis ainda há?**

R.: \_\_\_\_\_

**9.3** Um dia a professora também comprou 4 blocos de folhas de desenho. Cada bloco tinha 90 folhas.  
**Quantas folhas comprou?**

R.: \_\_\_\_\_