






Nome : _____

INFORMAÇÃO : _____

Data : __/__/__

1 – Observa a tabela que representa a quantidade de ovos consumidos em quatro meses em casa da Maria.

Código	Cada  representa 6 ovos
ABRIL	
MAIO	
JUNHO	
JULHO	

1.1 – Qual foi o mês em que se gastaram menos ovos?

R.: _____

1.2 – E em que mês se gastaram mais?

R.: _____

1.3 – Qual foi a diferença entre a quantidade de ovos gastos no mês de maio e julho?

R.: _____

1.4 – Quantos ovos se gastaram nos quatro meses?

R.: _____