






Nome : _____

INFORMAÇÃO : _____

Data : __/__/__

Tabelas de Frequência

1 – Na turma da Sofia, fizeram uma tabela para registrar o animal de estimação.

| Animal de estimação | Contagem | Número de crianças |
|--|----------|--------------------|
|  <i>cão</i> | | 8 |
|  <i>gato</i> | | |
|  <i>peixe</i> | | |
|  <i>pássaro</i> | | |
|  <i>hamster</i> | | |

a) Conta e preenche a última coluna, como no exemplo?

Qual é o animal preferido? _____

Que animais tiveram o mesmo número de votos? _____

Quantos alunos a mais preferiram o cão do que o pássaro? _____

Quantos alunos existem na turma? _____

2 – Na tua turma, observa a cor predominante no estojo dos teus colegas e preenche a tabela seguinte.

| Cor predominante do estojo | Contagem | Número de crianças |
|----------------------------|----------|--------------------|
| VERMELHO | | |
| AZUL | | |
| VERDE | | |
| Outra cor | | |