


Nome : _____

INFORMAÇÃO : _____

Data : ___ / ___ / ___

1 – Pinta as camisolas e os calções das crianças e completa os .



2 – Faz a correspondência, conforme o exemplo.

7	cinquenta e dois	32	quarenta e quatro
25	sete	80	cem
52	dezoito	44	trinta e dois
18	sessenta	78	oitenta
60	vinte e cinco	100	setenta e oito

3 – Completa.

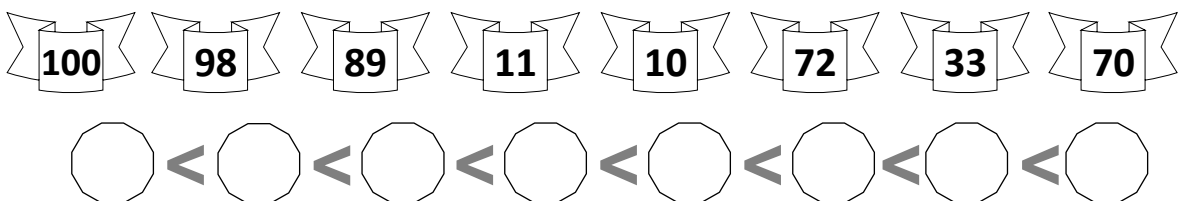
De 2 em 2

De 3 em 3

De 4 em 4

De 5 em 5

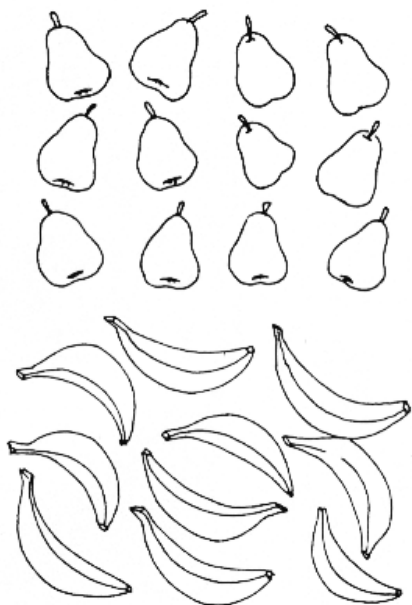
4 – Ordena os números por ordem crescente.



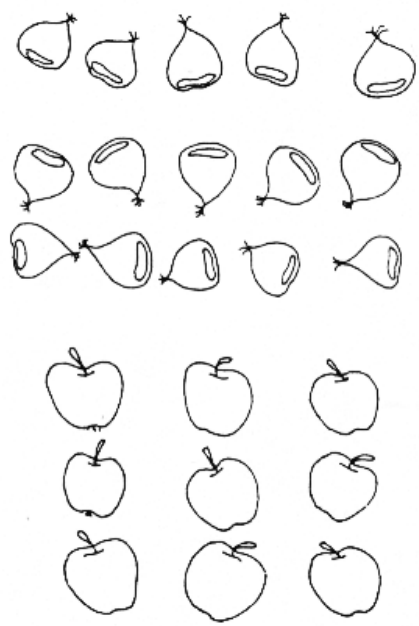
5 – Calcula e depois completa com $>$, $<$ ou $=$.

$50 + 20$	_____	$40 + 35$	_____	$90 + 6$	_____	$92 + 8$	_____
$20 + 16$	_____	$10 + 26$	_____	$32 + 3$	_____	$20 + 10$	_____

6 – Pinta as figuras, calcula mentalmente e faz a correspondência.



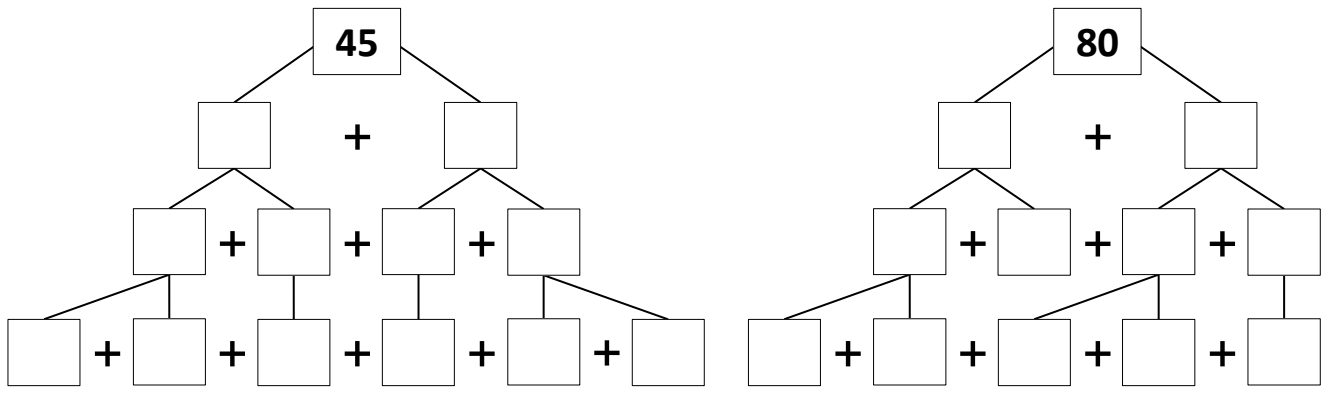
$3 + 5 + 1$
$18 - 4$
$5 + 3 + 2$
$5 + 4 + 6$



7 – Escreve os números vizinhos.

<input type="text"/> <input type="text"/> 59 <input type="text"/> <input type="text"/>	<input type="text"/> 71 <input type="text"/> <input type="text"/> <input type="text"/>	<input type="text"/> <input type="text"/> <input type="text"/> <input type="text"/> 85
<input type="text"/> 66 <input type="text"/> <input type="text"/> <input type="text"/>	<input type="text"/> <input type="text"/> <input type="text"/> 98 <input type="text"/>	<input type="text"/> <input type="text"/> 32 <input type="text"/> <input type="text"/>

8 – Decompõe os números.



9 – Calcula mentalmente e completa.

$9 + 8 = \square$

$70 + 15 = \square$

$15 - 7 = \square$

$19 + 8 = \square$

$94 + 6 = \square$

$34 - 4 = \square$

$9 + \square = 36$

$93 - \square = 90$

$52 - \square = 50$

10 – Calcula.

$78 + 19 = \square$

$45 + 34 = \square$

$69 + 56 = \square$

$69 - 15 = \square$

$88 - 19 = \square$

	D	U
	—	—
+	—	—

	D	U
	—	—
+	—	—

	D	U
	—	—
+	—	—

	D	U
	—	—
-	—	—

	D	U
	—	—
-	—	—

11 – Resolve as situações problemáticas.

11.1




Do lado direito da árvore de Natal colocaram-se 16 prendas e do lado esquerdo 19. **Quantas prendas haverá junto da árvore?**

R.: _____

11.2

Para enfeitar a árvore, as crianças tiraram dúzia e meia de bolas de uma caixa onde havia 48.

Quantas bolas ficaram na caixa?



R.: _____