

MATEMÁTICA

INFORMAÇÃO:

NOME: _____ DATA: ____/____/____

ESCOLA: _____ RUBRICA DO DOCENTE: _____

1 - Completa com $>$, $<$ e $=$.

$26 + 27 \square 53$

$100 \square 75 + 25$

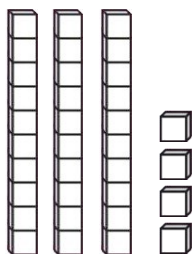
$35 + 35 \square 40 + 32$

$34 + 38 \square 39 + 31$

$15 + 40 \square 60$

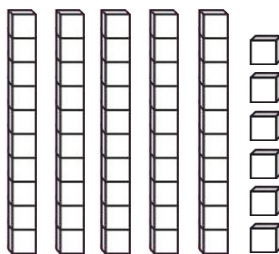
$35 + 15 + 40 \square 100$

2 - Observa cada representação e escreve o número e a sua leitura.

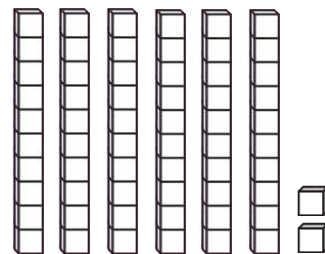


três dezenas

e _____ unidades



_____ e _____ unidades



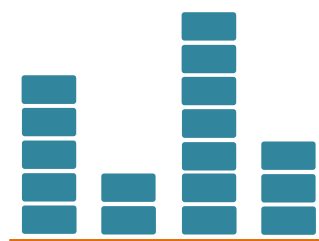
_____ e _____ unidades

3 - Observa o gráfico, onde se registou a quantidade de caixas de fruta que a Maria vendeu na sua loja na última semana.

- Quantas caixas de laranjas vendeu? _____
- Indica o tipo de fruta que vendeu em menor quantidade.

- E em maior quantidade? _____
- Quantas caixas de peras vendeu a mais do que de maçãs?

Fruta vendida na loja da Maria



■ = 10 caixas de fruta

R.: Vendeu mais _____ caixas de peras do que maçãs.

4 - Efetua as adições.

$$45 + 34 = \boxed{}$$

$$\begin{array}{r} 40 + \underline{} \\ + 30 + \underline{} \\ \hline \underline{} + \underline{} = \underline{} \end{array}$$

$$38 + 23 = \boxed{}$$

5 - Efetua as subtrações.

$$\begin{array}{l} 39 - 13 = 39 - 10 - \underline{} \\ = \underline{} - \underline{} \\ = \underline{} \end{array}$$

$$46 - 22 =$$

6 - Observa o dinheiro que a Alice tem.



- Conseguirá ela comprar umas calças que custam **26€**? _____

7 - No seu aniversário, a Alice recebeu 2 notas de **5€** e 3 moedas de **50** cêntimos.
Que quantia de dinheiro recebeu?

R.: Recebeu _____.