

Nome : _____


INFORMAÇÃO : _____

Data : __/__/__

RESOLUÇÃO DE PROBLEMAS

O Diogo tinha 58 selos de vários países, mas houve uns amigos que lhe ofereceram mais. Observa o quadro e responde às perguntas. Apresenta todos os cálculos que necessitares de fazer.

Os amigos	Quantidade de selos
Márcio	12
Ricardo	8
Pedro	10



- Qual dos amigos lhe deu mais selos?

Mostra como chegaste à tua resposta.

R.: _____

- Qual foi a diferença de selos entre aquele que lhe deu mais e o que lhe deu menos selos?

Mostra como chegaste à tua resposta.

R.: _____

- Com quantos selos acabou por ficar o Diogo?

Mostra como chegaste à tua resposta.


R.: _____



Num café havia três dezenas de cadeiras. Uma dezena estava ocupada por clientes.

- Quantas cadeiras não estavam ocupadas?

Mostra como chegaste à tua resposta.



R.: _____

- Entretanto chegou mais uma dúzia de clientes. Quantas cadeiras ficaram agora ocupadas?


Mostra como chegaste à tua resposta.



R.: _____

- A Joana deu 20 rebuçados à irmã e ficou ainda com 50. Quantos rebuçados tinha a Joana, no princípio?

Mostra como chegaste à tua resposta.



R.: _____