

Nome : \_\_\_\_\_

INFORMAÇÃO : \_\_\_\_\_

Data : \_\_/\_\_/\_\_

**1 – Lê as palavras e desenha os sólidos correctamente.**

**cilindro**

**cone**






**esfera**

**cubo**

**prisma**

**pirâmide**

**2 – Depois de observares, manuseares e rolares os sólidos, preenche a tabela, seguindo o exemplo.**

|                                 |  |  |  |  |  |
|---------------------------------|---|---|---|---|---|
| Rola                            |   |   |   |   |   |
| Não rola                        |   |   |   | X   |   |
| Superfícies planas e não planas |   |   |   |   |   |
| Só superfícies planas           |   |   |   | X   |   |
| Só superfícies não planas       |   |   |   |   |   |