


Nome : _____

INFORMAÇÃO :

Data : ___/___/___

Números até 299

C	D	U
2	0	0
duzentos		
2 centenas		

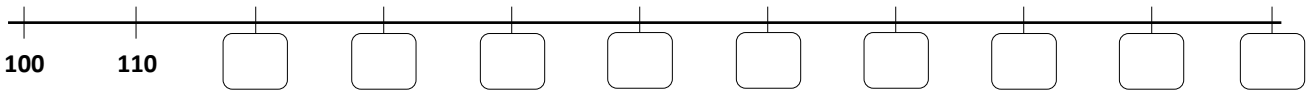


2 centenas
são
200

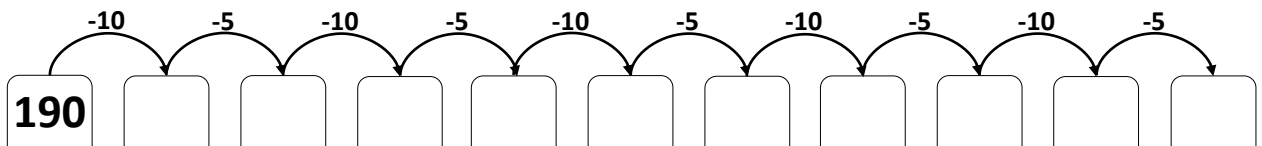


200 Unidades são **20** Dezenas ou **2** Centenas

1 – Completa a reta graduada com os números que faltam.



2 – Completa a sequência.



3 – Ajuda o Lucas e escreve por ordem crescente.



134 221 209 189 101 299 197

○ < ○ < ○ < ○ < ○ < ○ < ○