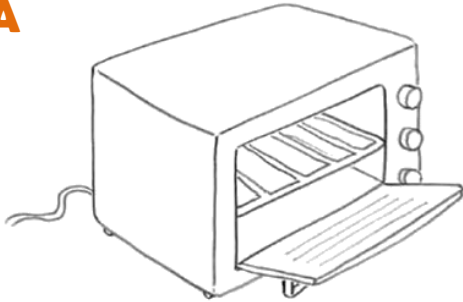


Nome : _____

INFORMAÇÃO : _____

Data : __/__/__

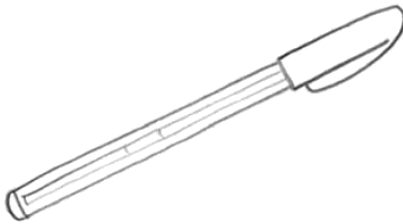
1 - Para cada produto, estima o seu preço e circunda o valor que mais se aproxima da tua estimativa.

A


1 euro 10 euros 100 euros

B

1 euro 10 euros 100 euros

C

1 euro 10 euros 100 euros

D

1 euro 10 euros 100 euros

E

1 euro 10 euros 100 euros

F

1 euro 10 euros 100 euros

2 - Verifica o custo de cada pacote de leite que bebes na escola e, com os teus colegas, faz uma estimativa do custo do leite escolar que cada um bebe durante uma semana.