

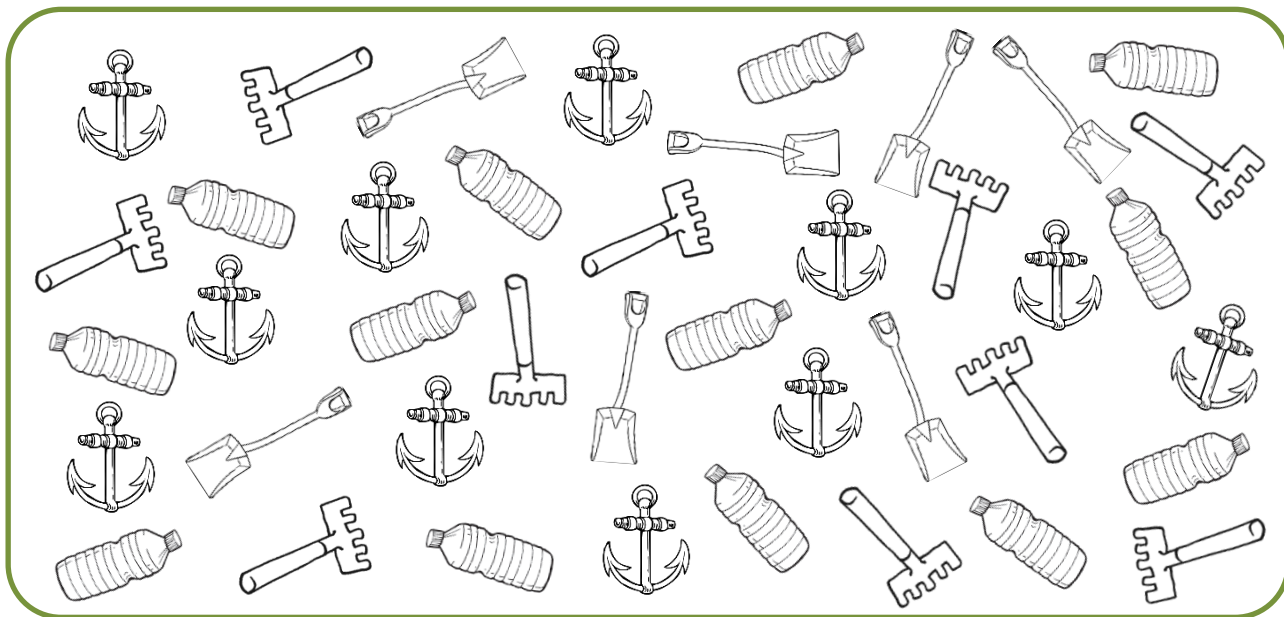
MATEMÁTICA

INFORMAÇÃO:

NOME: _____ DATA: ____/____/____

ESCOLA: _____ RUBRICA DO DOCENTE: _____

1 - Observa e conta o número de cada elemento da imagem.



1.1 - Regista as quantidades de cada elemento.









1.2 - Observa o exemplo. Indica quantos elementos seria necessário acrescentar ou retirar para ficarem representadas as quantidades indicadas.



22

acrescentar

$$10 + 12 = 22$$



9

retirar

$$___ - ___ = 9$$



15

acrescentar

$$___ + ___ = 15$$



7

retirar

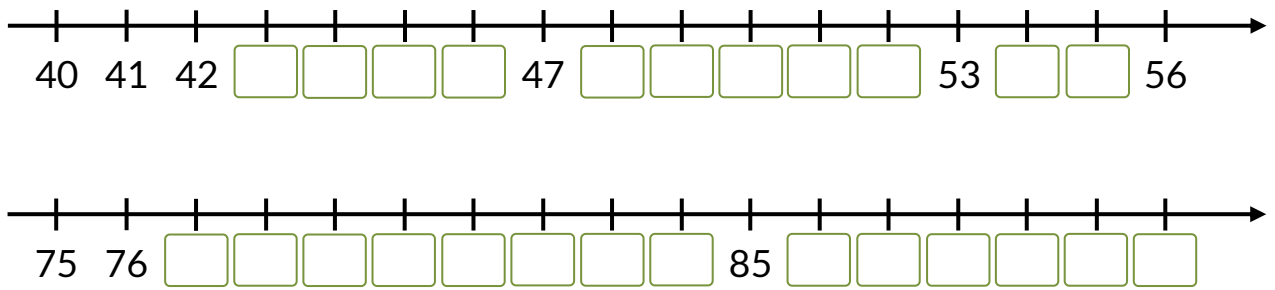
$$___ - ___ = 7$$

2 - Decompõe o número e faz a sua leitura de duas formas diferentes.

$$73 = 70 + ___$$

 _____ dezenas e _____ unidades

3 - Completa as retas numéricas com os números em falta.



4 - Utiliza apenas uma vez cada um dos números seguintes e completa as comparações.

39

99

70

63


> 87

< 48

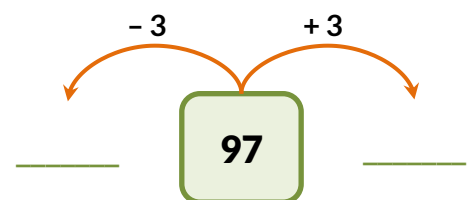
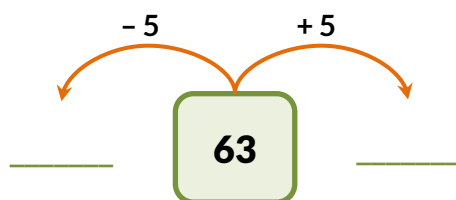
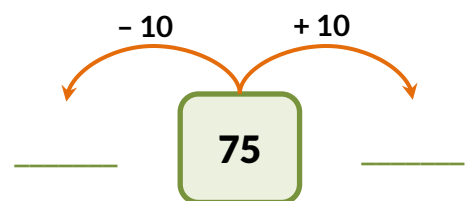
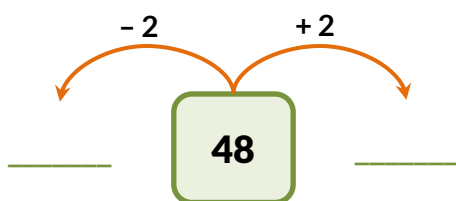
= 37 + 33

> 55


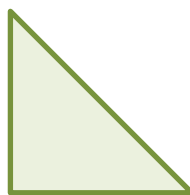


5 - Escreve o número correspondente.



6 - Completa os esquemas seguintes.



7 - Pinta a etiqueta que corresponde ao nome de cada figura representada.



círculo

quadrado

triângulo

quadrado

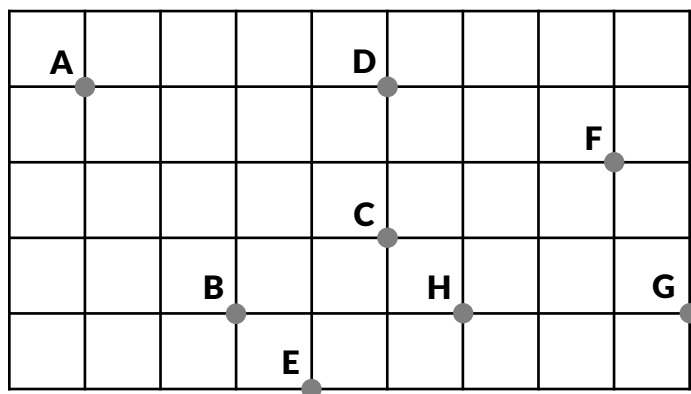
triângulo

quadrado

retângulo

quadrado

8 - Observa os pontos representados no quadriculado.



8.1 - Indica:

- o ponto mais distante do ponto A.

- dois pontos alinhados com o ponto B.

_____ e _____

9 - Completa as frases.

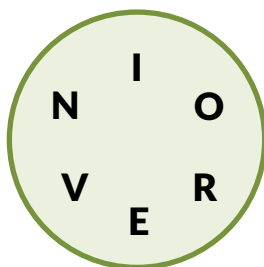
Uma semana tem _____ dias. Um ano tem _____ meses.

10 - Observa os conjuntos representados.

Conjunto A

Letras do nome

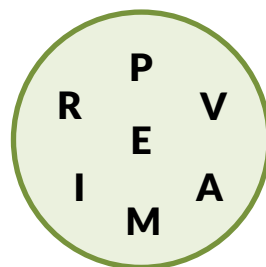
INVERNO



Conjunto B

Letras do nome

PRIMAVERA



10.1 - Completa com os símbolos \in e \notin .

- A letra N _____ ao conjunto A.

- A letra O _____ ao conjunto B.

- A letra P _____ ao conjunto A.

- A letra A _____ ao conjunto B.

11 – Os alunos da turma da Amélia votaram no sabor de sumo preferido. Cada aluno escolheu apenas um sabor e os resultados foram registados no pictograma seguinte.



11.1 – Qual foi o sabor mais escolhido? O sabor mais escolhido foi _____.

11.2 – Quantos alunos votaram? Votaram _____ alunos.

12 – Durante as férias de verão, a Inês poupou algum dinheiro para comprar uma mochila nova. Observa a quantia que a Inês conseguiu juntar.

29 €

45 €

12.1 – Assinala, com **X**, a mochila que ela pode comprar com o seu dinheiro.

12.2 – Depois de comprar a mochila a Inês fica com quanto dinheiro?

R.: Depois de comprar a mochila a Inês fica com _____.