

## MATEMÁTICA

INFORMAÇÃO:

NOME: \_\_\_\_\_ DATA: \_\_\_\_/\_\_\_\_/\_\_\_\_

ESCOLA: \_\_\_\_\_ RUBRICA DO DOCENTE: \_\_\_\_\_

- 1 – Todos os alunos da turma do 1.º ano foram visitar o Zoo de Metrópolis. No fim da visita registaram num gráfico de pontos as preferências relativas ao animal que cada aluno mais gostou de ver.

*Animais de que os alunos mais gostaram*

- Quantos alunos preferiram o tigre ou o rinoceronte?

---

- Quantos alunos há na turma do 1.º ano?

R.: Na turma do 1.º ano há \_\_\_\_\_ alunos.

- 2 – Pinta de laranja o número maior e de azul o número menor.

65

76

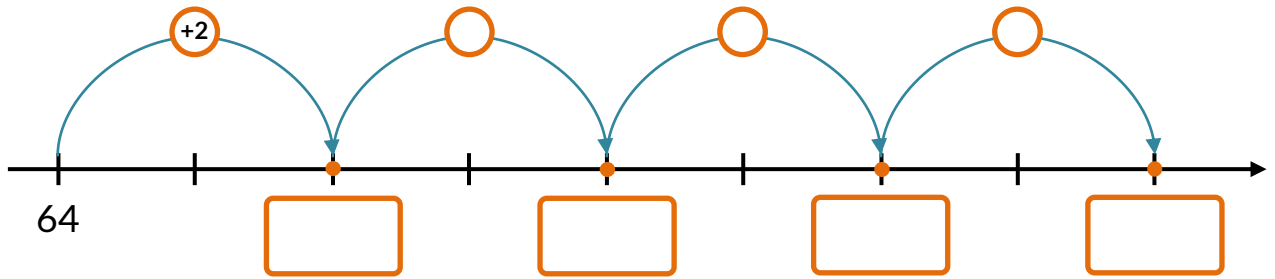
89

37

18

53

3 - Completa, preenchendo os espaços em branco..




4 - Completa com >, < e =.



5 - Completa.

$37 + 10 = \underline{\quad}$   
 $54 + 30 = \underline{\quad}$   
 $71 + 20 = \underline{\quad}$




$45 - 20 = \underline{\quad}$   
 $81 - 30 = \underline{\quad}$   
 $53 - 10 = \underline{\quad}$

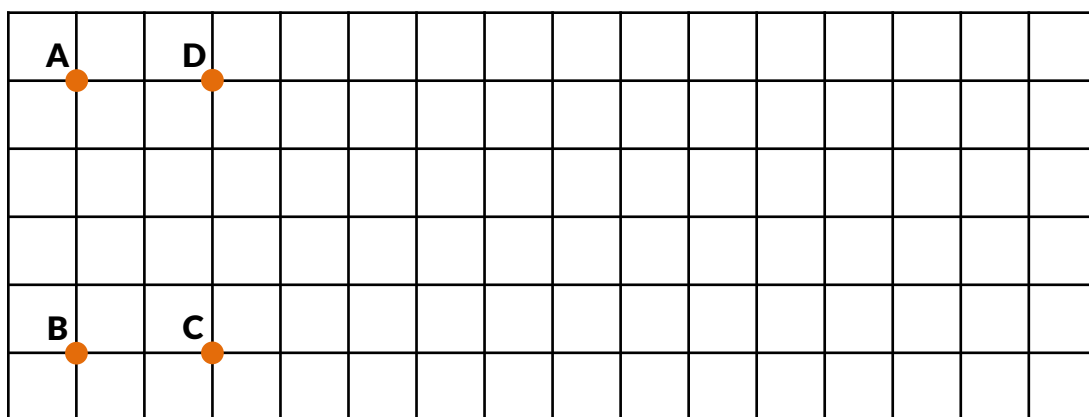
6 - Ordena os dias da semana, começando no domingo.

segunda-feira	quinta-feira	domingo	sexta-feira
<input type="text"/>	<input type="text"/>	1.º	<input type="text"/>
sábado	terça-feira	quarta-feira	
<input type="text"/>	<input type="text"/>	<input type="text"/>	

7 - Assinala, com X, os sólidos geométricos que só têm superfícies planas.

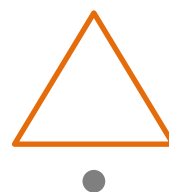




8 - Desenha um retângulo de vértices A, B, C e D e pinta-o.



- A área do retângulo é \_\_\_\_\_
- Desenha, no quadriculado, um segmento [EF] na posição horizontal de comprimento 6  $\overline{\quad}$ .
- Marca um ponto S que pertença ao segmento de reta [EF].

9 - Liga as figuras geométricas ao seu nome.



círculo

triângulo

circunferência

quadrado

10 – Quanto dinheiro falta ao Paulo para poder comprar o jogo?



20 €

R.: Faltam-lhe \_\_\_\_\_ euros para comprar o jogo.

11 – A avó do Francisco comprou os objetos desportivos apresentados.



35 €



23 €



42 €

- Qual foi o objeto mais caro? \_\_\_\_\_
- Quanto pagou a avó do Francisco pelos três objetos?

R.: A avó do Francisco pagou \_\_\_\_\_ euros.

12 – A Mónica e a Susana foram apanhar alperces.  
A Mónica colheu 18 alperces e a Susana colheu 11.  
Quantos alperces colheu a Mónica  
a mais do que a Susana?



R.: A Mónica colheu \_\_\_\_\_ alperces a mais.