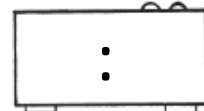
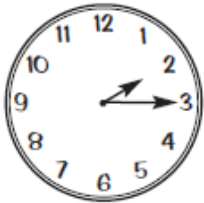
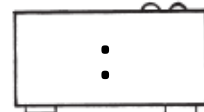
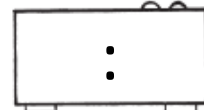
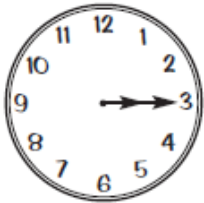
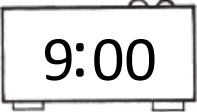


Nome : _____

INFORMAÇÃO : _____

Data : ___/___/___

1 – Escreve as horas assinaladas pelos relógios de ponteiros nos relógios digitais. Une cada relógio com o menino ou a menina que lhe corresponde.



São duas e um quarto



São oito e meia



São nove em ponto



São onze e meia



São cinco e meia



É uma em ponto



São três e um quarto



São quatro e um quarto

