

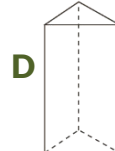
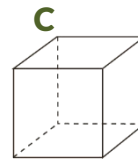
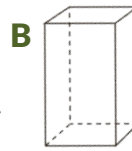
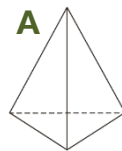
MATEMÁTICA

INFORMAÇÃO:

NOME: _____ DATA: ____/____/____

ESCOLA: _____ RUBRICA DO DOCENTE: _____

1 - Observa os sólidos geométricos ao lado e completa o quadro, de acordo com as suas características.




Sólido	Nome	N.º de faces	N.º de vértices	N.º de arestas	Polígono da base
A					
B					
C					
D					

1.1 - Os sólidos anteriores são poliedros ou não poliedros?
Justifica a tua resposta.

R.: _____

2 - Cobre de laranja as linhas não poligonais e de azul as linhas poligonais.



2.1 - Das linhas poligonais, identifica a que representa um polígono.

R.: _____

2.2 - Escreve o nome do polígono que identificaste em 2.1.

R.: _____

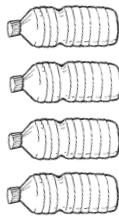
2.3 - Assinala os pontos A, B e C, a verde, na parte interna do polígono.


2.4 - Assinala os pontos D e E, a preto, na parte externa do polígono.

2.5 - Assinala os pontos F e G, a vermelho, na fronteira do polígono.

3 - Observa a tabela onde está indicada a quantidade de garrafas de plástico recolhidas pelos alunos de uma escola em Faro. Completa o pictograma de acordo com os dados da tabela.

Ano de escolaridade	1.º ano	2.º ano	3.º ano	4.º ano	5.º ano	6.º ano
Garrafas recolhidas	25	75	125	100	50	25



Legenda:
 = 25 garrafas

1.º ano 2.º ano 3.º ano 4.º ano 5.º ano 6.º ano

4 - Completa:

	0	1	2	3	4	5	6	7	8	9	10	11	12
3													

5 - Escreve o número anterior e o seguinte.

<input type="text"/>	67	<input type="text"/>	<input type="text"/>	175	<input type="text"/>	<input type="text"/>	299	<input type="text"/>
----------------------	----	----------------------	----------------------	-----	----------------------	----------------------	-----	----------------------

6 - Circunda a laranja os algarismos da ordem das centenas e a verde os algarismos da ordem da unidades.

197	116	205	172	200	38	231	105
-----	-----	-----	-----	-----	----	-----	-----

7 - Descobre a idade de cada uma das pessoas e o seu grau de parentesco.



Tenho 10 anos.



A minha filha tem o dobro da idade do meu sobrinho.



O meu tio tem o triplo da idade da minha prima.

O Carla tem _____ anos e é _____ do José.

O José tem _____ anos e é _____ do Hugo.

O Hugo tem _____ anos e é _____ da Carla.